

Opakujeme s tretiakmi vlastivedu

Pracovný list pre deti

1. Do viet doplň správne slová:

_____ je zjednodušený a zmenšený obraz časti zemského povrchu. Slovensko sa nachádza v strede _____. Najvyšší vrch Slovenska sa volá _____. Najdlhšia rieka Slovenska je _____. Svätopluk bol panovníkom _____ ríše. Autorom textu slovenskej hymny je _____. Mária Terézia zaviedla _____. Ako základ pre spisovný jazyk si stredoslovenské nárečie vybral _____.

2. Prirad' správne mená k obrázkom

Ludovít Štúr, M. R. Štefánik, Anton Bernolák, Janko Matuška



3. K rokom napíš správne storočie:

863 - _____ 1787 - _____ 1843 - _____ 2020 - _____

4. Rovnakou farbou vyfarbi všetko, čo patrí k sebe.

Ľudovít Štúr



nárečie z okolia Trnavy

stredoslovenské nárečie

Anton Bernolák



5. Svätopluk bol panovníkom:

- A. Uhorska
- B. Veľkomoravskej ríše
- C. Slovenska

6. Anton Bernolák a po ňom Ľudovít Štúr sa zaslúžili:

- A. o vytvorenie spisovnej slovenčiny
- B. o zavedenie povinnej školskej dochádzky
- C. o vynájdenie tlačiarenskeho stroja

7. Autorom slovenskej hymny je:

- A. Ľudovít Štúr
- B. M. R. Štefánik
- C. Janko Matuška

8. M. R. Štefánik sa zaslúžil:

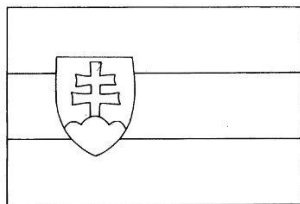
- A. o vznik slovenskej hymny
- B. o vznik Československej republiky
- C. o vznik Veľkomoravskej ríše

9. Dopíš správne údaje.

Naša vlasť sa nazýva _____.

Hlavným mestom je _____.

10. Správne vyfarbi štátnu vlajku a napíš ďalšie 3 štátne symboly.



11. Spoj čiarou, čo vyjadrujú farby na mape.

nížiny	modrá
pohoria	zelená
vodné plochy	hnedá

12. Napíš, čo znamená skratka TANAP ?

T_____ n_____ p_____

13. Spoj čiarou správne možnosti.

Bratislava	Pamätník SNP, vrch Urpín
Trnava	prvý kresťanský chrám, Agrokomplex
Košice	hlavné mesto Slovenskej republiky
Banská Bystrica	hrad, mesto módy
Nitra	mesto ocele, naše 2. najväčšie mesto
Trenčín	malý Rím, veľa kostolov

14. Napíš názvy 3 pohorí na Slovensku.

15. Napíš názvy 3 jaskýň na Slovensku.


Klíč správných odpovedí

1. Do viet doplň správne slová:

Mapa je zjednodušený a zmenšený obraz časti zemského povrchu. Slovensko sa nachádza v strede **Európy**. Najvyšší vrch Slovenska sa volá **Gerlachovský** štít. Najdlhšia rieka Slovenska je **Váh**. Svätopluk bol panovníkom **Veľkomoravskej** ríše. Autorom textu slovenskej hymny je **Janko Matuška**. Mária Terézia zaviedla **školskú dochádzku**. Ako základ pre spisovný jazyk si stredoslovenské nárečie vybral **Ludovít Štúr**.

2. Priradi správne mená k obrázkom

Ludovít Štúr, M. R. Štefánik, Anton Bernolák, Janko Matuška



3. K rokom napíš správne storočie:

863 – 9.stor., 1787 – 18. stor., 1843 – 19. stor., 2020 – 21. stor.

4. Rovnakou farbou vyfarbi všetko, čo patrí k sebe.

Ľudovít Štúr



nárečie z okolia Trnavy

stredoslovenské nárečie

Anton Bernolák



5. Svätopluk bol panovníkom:

- A. Uhorska
- B. Veľkomoravskej ríše**
- C. Slovenska

6. Anton Bernolák a po ňom Ľudovít Štúr sa zaslúžili

- A. o vytvorenie spisovnej slovenčiny**
- B. o zavedenie povinnej školskej dochádzky
- C. o vynájdenie tlačiarenskeho stroja

7. Autorom slovenskej hymny je

- A. Ľudovít Štúr
- B. M. R. Štefánik
- C. Janko Matuška**

8. M. R. Štefánik sa zaslúžil

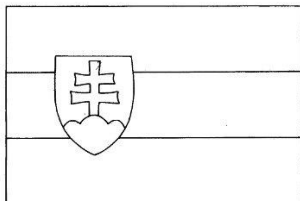
- A. o vznik slovenskej hymny**
- B. o vznik Československej republiky
- C. o vznik Veľkomoravskej ríše

9. Dopíš správne údaje.

Naša vlasť sa nazýva **Slovenská republika**.

Hlavným mestom je **Bratislava**.

10. Správne vyfarbi štátnu vlajku a napíš ďalšie 3 štátne symboly.



vlajka, hymna, znak, pečať



11. Spoj čiarou, čo vyjadrujú farby na mape.

nížiny

modrá

pohoria

zelená

vodné plochy

hnedá

12. Napíš, čo znamená skratka TANAP ?

Tatranský národný park

13. Spoj čiarou správne možnosti.

Bratislava

Pamätník SNP, vrch Urpín

Trnava

prvý kresťanský chrám, Agrokompex

Košice

hlavné mesto Slovenskej republiky

Banská Bystrica

hrad, mesto módy

Nitra

mesto ocele, naše 2. najväčšie mesto

Trenčín

malý Rím, veľa kostolov

14. Napíš názvy 3 **pohorí** na Slovensku.

Například: *Vysoké Tatry, Nizke Tatry, Kremnické pohorie, Veľká Fatra, Malá Fatra...*

15. Napíš názvy 3 **jaskýň** na Slovensku.

Demänovská jaskyňa slobody, Demänovská ľadová jaskyňa, Dobšinská ľadová jaskyňa, Gombasecká jaskyňa, Harmenecká jaskyňa, Domica...