

Sčítanie a odčítanie do 20

Ak si potrebujete so svojou prváčkou alebo prvákom zopakovať sčítanie a odčítanie v obore do 20, možno vám v tom pomôžu nasledujúce cvičenia.

1. Vypočítaj!

$5 - 2 =$	$3 - 2 =$	$2 + 2 =$	$2 - 1 =$	$5 - 4 =$
$2 - 1 =$	$2 + 3 =$	$1 + 4 =$	$3 + 1 =$	$4 - 3 =$
$5 - 3 =$	$5 - 2 =$	$2 + 3 =$	$4 + 1 =$	$2 + 2 =$
$1 + 6 =$	$4 - 1 =$	$4 - 3 =$	$3 + 2 =$	$4 + 1 =$
$1 + 5 =$	$2 - 1 =$	$5 - 1 =$	$3 - 1 =$	$3 + 1 =$

2. Dopln chýbajúce čísla.

20	-		=	14
----	---	--	---	----

3	+		=	16
---	---	--	---	----

11	+	0	=	
----	---	---	---	--

	-	9	=	1
--	---	---	---	---

	-	8	=	10
--	---	---	---	----

	+	6	=	19
--	---	---	---	----

3. Vypočítaj:

Janka mala 4 eurá. Mama jej dala ešte 3 eurá. Koľko eur má Janka teraz?

Janka má eur.

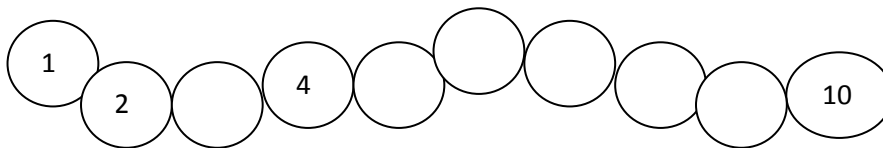
4. Vypočítaj!

$$\begin{aligned} 10 + 8 &= \\ 6 + 10 &= \\ 19 - 10 &= \\ 14 - 4 &= \end{aligned}$$

$$\begin{aligned} 12 + 3 &= \\ 17 + 3 &= \\ 12 + 6 &= \\ 14 + 4 &= \end{aligned}$$

$$\begin{aligned} 17 - 3 &= \\ 13 - 2 &= \\ 16 - 6 &= \\ 20 - 10 &= \end{aligned}$$

5. Doplň postupnosť čísel.



6. Doplň znamienko + alebo - .

8		10	=	18
---	--	----	---	----

10		10	=	20
----	--	----	---	----

12		2	=	10
----	--	---	---	----

13		2	=	11
----	--	---	---	----

20		6	=	14
----	--	---	---	----

14		3	=	17
----	--	---	---	----

7. Vypočítaj!

$2 + 2 + 3$

$10 - 5 + 1 =$

$1 + 4 + 5 =$

$8 - 2 - 1 =$

$3 + 1 + 4 =$

$5 + 2 - 4 =$

$$2 + 7 + 1 =$$

$$3 + 4 - 7 =$$

8. Doplň znaky <, >, =

$14 \quad 15$

$8 \quad 3$

$19 \quad 17$

$6 \quad 6$

$11 \quad 13$

$4 \quad 9$

9. Nakresli 7 trojuholníkov a 4 kruhy.



10. Vypočítaj reťazovku.

$$9 + 1 - 2 - 6 + 2 - 2 + 4 + 1 + 2 - 3 =$$

$$8 - 3 + 2 - 1 + 2 - 5 - 1 + 4 - 5 - 1 =$$

$$7 - 2 + 1 - 2 - 1 + 3 + 4 - 1 - 2 - 5 =$$

11. Oprav nesprávne vypočítané príklady.

$3 + 7 = 9$

$6 + 2 = 8$

$10 - 2 = 7$

$6 + 1 = 7$

$5 - 2 = 2$

$9 - 5 = 6$

$5 + 2 = 10$

$6 + 3 = 9$

$8 + 1 = 9$

12. Vypočítaj!

$13+4=$

$5+15=$

$11+6=$

$7+12=$

$10+3=$

$13+2=$

$7+2=$

$6+10=$

$14-4=$

$9-7=$

$18-5=$

$19-12=$

$7-2=$

$13-10=$

$20-7=$

$20-14=$

$18+1=$

$15-3=$

Kľúč správnych odpovedí pre rodičov

1. Vypočítaj!

$5 - 2 = 3$	$3 - 2 = 1$	$2 + 2 = 4$	$2 - 1 = 1$	$5 - 4 = 1$
$2 - 1 = 1$	$2 + 3 = 5$	$1 + 4 = 5$	$3 + 1 = 4$	$4 - 3 = 1$
$5 - 3 = 2$	$5 - 2 = 3$	$2 + 3 = 5$	$4 + 1 = 5$	$2 + 2 = 4$
$1 + 6 = 7$	$4 - 1 = 3$	$4 - 3 = 1$	$3 + 2 = 5$	$4 + 1 = 5$
$1 + 5 = 6$	$2 - 1 = 1$	$5 - 1 = 4$	$3 - 1 = 2$	$3 + 1 = 4$

2. Doplň chýbajúce čísla.

20	-	6	=	14
----	---	---	---	----

3	+	13	=	16
---	---	----	---	----

11	+	0	=	11
----	---	---	---	----

10	-	9	=	1
----	---	---	---	---

18	-	8	=	10
----	---	---	---	----

13	+	6	=	19
----	---	---	---	----

3. Vypočítaj:

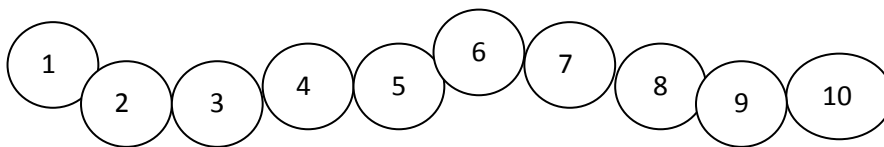
Janka mala 4 eurá. Mama jej dala ešte 3 eurá. Koľko eur má Janka teraz?

Janka má eur.

4. Vypočítaj!

$10 + 8 = 18$ $6 + 10 = 16$ $19 - 10 = 9$ $14 - 4 = 10$	$12 + 3 = 15$ $17 + 3 = 20$ $12 + 6 = 18$ $14 + 4 = 18$	$17 - 3 = 14$ $13 - 2 = 11$ $16 - 6 = 10$ $20 - 10 = 10$
--	--	---

5. Dopln' postupnosť čísel.



6. Dopln' znamienko + alebo - .

8	+	10	=	18
---	---	----	---	----

10	+	10	=	20
----	---	----	---	----

12	-	2	=	10
----	---	---	---	----

13	-	2	=	11
----	---	---	---	----

20	-	6	=	14
----	---	---	---	----

14	+	3	=	17
----	---	---	---	----

7. Vypočítaj!

$2 + 2 + 3 = 7$

$10 - 5 + 1 = 6$

$1 + 4 + 5 = 10$

$8 - 2 - 1 = 5$

$3 + 1 + 4 = 8$

$5 + 2 - 4 = 3$

$2 + 7 + 1 = 10$

$3 + 4 - 7 = 0$

8. Doplň znaky <, >, =

$14 < 15$


$8 > 3$

$19 > 17$

$6 = 6$

$11 < 13$

$4 < 9$

9. Nakresli 7 trojuholníkov a 4 kruhy.**10. Vypočítaj reťazovku.**

$9 + 1 - 2 - 6 + 2 - 2 + 4 + 1 + 2 - 3 =$

$8 - 3 + 2 - 1 + 2 - 5 - 1 + 4 - 5 - 1 =$

$7 - 2 + 1 - 2 - 1 + 3 + 4 - 1 - 2 - 5 =$

11. Oprav nesprávně vypočítané příklady.

$3 + 7 = 9 \quad 10$

$6 + 2 = 8$

$10 - 2 = 7 \quad 8$

$6 + 1 = 7$

$5 - 2 = 2 \quad 3$

$9 - 5 = 6 \quad 4$

$5 + 2 = 10 \quad 7$

$6 + 3 = 9$

$8 + 1 = 9$

12. Vypočítaj!

$13+4= 17$

$5+15= 20$

$11+6= 17$

$7+12= 19$

$10+3= 13$

$13+2= 15$

$7+2= 9$

$6+10= 16$

$14-4= 10$

$9-7= 2$

$18-5= 13$

$19-12= 7$

$7-2= 5$

$13-10= 3$

$20-7= 13$

$20-14= 6$

$18+1= 19$

$15-3= 12$