

## Opakujeme s druhákmi prvouku

***V nasledujúcom pracovnom liste sa nachádzajú úlohy, ktoré sú zamerané na opakovanie učiva z prvouky v druhom ročníku.***

### 1. Poznáš správne telefónne čísla?

150	
158	
155	

### 2. Odpovedaj na otázky.

Štát, v ktorom žijeme sa volá \_\_\_\_\_.

Obec ( mesto), v ktorej bývam sa volá \_\_\_\_\_.

Aké sú symboly štátu? \_\_\_\_\_.

Koľko má rok dní a koľko má mesiacov? \_\_\_\_\_.

**Jednotkou času je:** A. liter      B. hodina      C. centimeter

### Aké farby sú na vlajke Slovenskej republiky:

A. modrá, zelená, červená

B. modrá, biela, červená

C. biela, červená, žltá

**Oranžová na semafore znamená:** A. Priprav sa!    B. Stoj!    C. Voľno!

### 3. Dopln názvy mesiacov.

január, február,  apríl,   júl, august,  
, október

### 4. Dopíš do viet, aké povolanie vykonávajú títo ľudia:

Chlieb a pečivo pečie \_\_\_\_\_ .

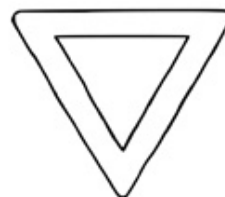

V škole učí žiakov \_\_\_\_\_ .

Šaty a nohavice šije \_\_\_\_\_ .

Stavia z tehál múry domu \_\_\_\_\_ .

Lieči deti a dospelých \_\_\_\_\_ .

**5. Značky správne vyfarbi. Prirad' čiarou k značkám správne pomenovanie.**



DAJ PREDNOSŤ V JAZDE

PRIECHOD PRE CHODCOV

HLAVNÁ CESTA

SVETELNÉ SIGNÁLY

**6. Dopíš správne pomenovania vyznačených častí kostry človeka:**

**stehenná kosť**

**rebrá**

**chrbti**

**lebka**

**ramenná kosť**



**7. Správne doplň chýbajúce zvieratká.**

SAMČEK	SAMIČKA	MLÁĎATKO
pes		
	mačka	
kohút		

**8. Zakrúžkuj správne slová.**

A. živé súčasti pôdy sú - kameň, krtko, piesok, dážďovka, íl, rastlina

B. neživé súčasti pôdy sú – sova, voda, ryba, vzduch, mačka, hlina

**9. Do viet napíš vhodné slová. (skupiny, starnú, rôzna )**

Živočíchy počas svojho života rastú, vyvíjajú sa, dospievajú a \_\_\_\_\_. Dĺžka ich života je \_\_\_\_\_. Mnohé vytvárajú \_\_\_\_\_ - spoločenstvá .

**10. Prirad' k zvieratku správnu formu spoločenstva.**

labute	krdel'
včely	kolónia
mravce	pár
jelene	včelstvo
vlky	stádo
husi	svorka

## Kľúč správnych odpovedí

### 1. Poznáš správne telefónne čísla?

150	Hasičský a záchranný zbor
158	Polícia
155	Zdravotná záchranná služba

### 2. Odpovedaj na otázky.

Štát, v ktorom žijeme sa volá *Slovenská republika*.

Obec ( mesto), v ktorej bývam sa volá \_\_\_\_\_.

Aké sú symboly štátu? *štátny znak, štátna vlajka, štátna pečať, štátna hymna*.

Koľko má rok dní a koľko má mesiacov? *Jeden obeh Zeme okolo Slnka trvá zaokrúhlene jeden rok - 365 dní a 6 hodín. Tri roky nasledujúce po sebe majú 365 dní a štvrtý rok – priestupný má 366 dní. Rok má 12 mesiacov.*

**Jednotkou času je:** A. liter      **B.** hodina      C. centimeter

**Aké farby sú na vlajke Slovenskej republiky:**

A. modrá, zelená, červená

**B.** modrá, biela, červená

C. biela, červená, žltá

**Oranžová na semafore znamená:** **A.** Priprav sa!    B. Stoj!    C. Voľno!

### 3. Doplň názvy mesiacov.

január, február, , apríl, , , júl, august,  
, október, ,

### 4. Dopíš do viet, aké povolanie vykonávajú títo ľudia:

Chlieb a pečivo pečie *pekár*.



V škole učí žiakov *učiteľov*.

Šaty a nohavice šije *krajčírka*.

Stavia z tehál múry domu *murár* .

Lieči deti a dospelých *lekár*.

**5. Značky správne vyfarbi. Prirad' čiarou k značkám správne pomenovanie.**



svetelné signály  
jazde

priechod pre chodcov

hlavná cesta

daj prednosť v

**6. Dopíš správne pomenovania vyznačených častí kostry človeka:**



lebka

ramenná kosť

rebrá

chrbtica

stehenná kosť

### 7. Správne doplň chýbajúce zvieratká.

SAMČEK	SAMIČKA	MLÁĎATKO
pes	sučka	psiča
kocúr	mačka	mača
kohút	sliepka	kuriatko

### 8. Zakrúžkuj správne slová.

A. živé súčasti pôdy sú - kameň, krtko, piesok, dážďovka, íl, rastlina

B. neživé súčasti pôdy sú – sova, voda, ryba, vzduch, mačka, hlina

### 9. Do viet napíš vhodné slová. (skupiny, starnú, rôzna)

Živočíchy počas svojho života rastú, vyvíjajú sa, dospievajú a starnú. Dĺžka ich života je rôzna. Mnohé vytvárajú skupiny - spoločenstvá.

### 10. Priradi k zvieratku správnu formu spoločenstva.

labute

krdel'

včely

kolónia

mravce

pár

jelene

včelstvo

vlky

stádo

husi

svorka